



# ZÁKLADNÍ ŠKOLA OLOMOUC

příspěvková organizace

MOZARTOVA 48, 779 00 OLOMOUC

tel.: 585 427 142, 775 116 442; fax: 585 422 713

e-mail: [kundrum@centrum.cz](mailto:kundrum@centrum.cz); [www.zs-mozartova.cz](http://www.zs-mozartova.cz)



evropský  
sociální  
fond v ČR



EVROPSKÁ UNIE



MINISTERSTVO ŠKOLSTVÍ,  
MLÁDEŽE A TĚLOVÝCHOVY



OP Vzdělávání  
pro konkurenceschopnost

INVESTICE DO ROZVOJE VZDĚLÁVÁNÍ

Projekt: ŠKOLA RADOSTI, ŠKOLA KVALITY

Registrační číslo projektu: CZ.1.07/1.4.00/21.3688

## EU PENÍZE ŠKOLÁM

Operační program Vzdělávání pro konkurenceschopnost


<b>Autor:</b>	Mgr. Romana Parobková
<b>Vzdělávací oblast:</b>	Člověk a jeho svět
<b>Vzdělávací obor:</b>	Člověk a jeho svět
<b>Vyučovací předmět:</b>	Vlastivěda
<b>Ročník:</b>	5.
<b>Tematická oblast:</b>	Česká republika a sousední státy
<b>Téma hodiny:</b>	Severní Morava 2
<b>Označení DUM:</b>	VY_32_INOVACE_15.11.PAR.VL.5
<b>Vytvořeno:</b>	10. 03. 2013

## Severní Morava 2

1. Přepiš správně města a zařaď je do příslušného kraje.  
(Moravskoslezský kraj - MO, Olomoucký kraj - OL)

U T L R Á B N	_____	MO	OL
V Ř O V H Í A	_____	MO	OL
N I E T C Ř	_____	MO	OL
K E L V É N O S Y L I	_____	MO	OL
K D U S Ě N A T	_____	MO	OL
K O J Í V R A N	_____	MO	OL
V O K I P I N C Ř E	_____	MO	OL
R O K V N	_____	MO	OL

## 2. Křížovka



HLAVNÍM PŘÍTOKEM HORNÍHO TOKU MORAVY  
JE...

NEJVYŠŠÍ HORA JESENÍKŮ...

NA OSTRAVSKU ŽIJE HODNĚ OBYVATEL ...  
NÁRODNOSTI

JAKÉ MOŘE JE CÍLEM PRO NAŠI ŘEKU ODRU?  
NA HANĚ SE PĚSTUJÍ OBILOVINY: JEČMEN A  
...

ČR SE DĚLÍ NA: ČECHY, MORAVU A ...

V JAKÉM POHOŘÍ LEŽÍ LYSÁ HORA?  
NA RADHOŠTI JE KAPLE A PAMÁTNÍK CYRILA  
A ...

\_\_\_\_\_ je kraj od podhůří Jeseníků až  
ke Zlínu. Kdysi jeden z nejchudších krajů u nás.

**3. Škrtni, co do řady nepatří, zdůvodni proč.**

- a) Karlova Studánka, Velké Losiny, Bruntál, Lázně Jeseník
- b) Slunečná, Praděd, Červenohorské sedlo, Lysá hora
- c) Černé moře, Baltské moře, Bečva, Beskydy
- d) Odra, Opava, Moravice, Ostravice, Olše
- e) sladovnický ječmen, len, cukrovka, kukuřice, chmel, ovoce

**4. Vyhledej na mapě vodní nádrže na severní Moravě a vypiš je:**

---

---

---

---

---

**5. Vyhledej názvy řek.**

- a) HONZA DOSTAL OD RADIMA DÁREK K NAROZENINÁM.
- b) KOPA VAJEC JE ŠEDESÁT KUSŮ VAJÍČEK.
- c) POTRAVINOVÝ MOL ŠEDÝ JE HROZBOU KAŽDÉ DOMÁCNOSTI.

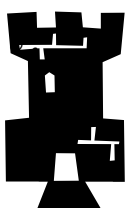
**6. Co mají společného města:**

*Zlaté Hory, Krnov, Český Těšín?*

---

---

**7. Které hrady bychom mohli na severní Moravě navštívit?**



---

---

## ŘEŠENÍ:

1.

B R U N T Á L	Moravskoslezský kraj	Olomoucký kraj
H A V Í Ř O V	Moravskoslezský kraj	Olomoucký kraj
T Ř I N E C	Moravskoslezský kraj	Olomoucký kraj
V E L K É L O S I N Y	Moravskoslezský kraj	Olomoucký kraj
S T U D Ě N K A	Moravskoslezský kraj	Olomoucký kraj
J A V O R N Í K	Moravskoslezský kraj	Olomoucký kraj
K O P Ě I V N I C E	Moravskoslezský kraj	Olomoucký kraj
K R N O V	Moravskoslezský kraj	Olomoucký kraj

## 2. Křížovka

B	E	Č	V	A					
	P	R	A	D	Ě	D			
	P	O	L	S	K	É			
		B	A	L	T	S	K	É	
		P	Š	E	N	I	C	E	
S	L	E	Z	S	K	O			
	B	E	S	K	Y	D	Y		
	M	E	T	O	D	Ě	J	E	

HLAVNÍM PŘÍTOKEM HORNÍHO TOKU MORAVY JE...

NEJVYŠŠÍ HORA JESENÍKŮ...

NA OSTRAVSKU ŽIJE HODNĚ OBYVATEL ...  
NÁRODNOSTI

JAKÉ MOŘE JE CÍLEM PRO NAŠI ŘEKU ODRU?  
NA HANÉ SE PĚSTUJÍ OBILOVINY: JEČMEN A ...

ČR SE DĚLÍ NA: ČECHY, MORAVU A ...

V JAKÉM POHOŘÍ LEŽÍ LYSÁ HORA?  
NA RADHOŠTI JE KAPLE A PAMÁTNÍK CYRILA  
A ...

**VALAŠSKO** je kraj od podhůří Jeseníků až ke Zlínu. Kdysi jeden z nejchudších krajů u nás.

## 3. Škrtni, co do řady nepatří, zdůvodni proč.

- a) Karlova Studánka, Velké Losiny, ~~Bruntál~~, Lázně Jeseník  
- není lázeňské město

- b) Slunečná, Praděd, Červenohorské sedlo, ~~Lysá hora~~  
- není v Jeseníkách
- c) (Černé moře), ~~Baltské moře~~, Bečva, (Beskydy)  
- Bečva pramení v Beskydech a pak končí v Černém moři  
- Ostatní pojmy začínají na stejné písmeno  
- Beskydy netvoří vodstvo
- d) ~~Odra~~, Opava, (Moravice), Ostravice, Olše  
- Ostatní řeky jsou přítoky, vlévají do Odry  
- Moravice - začíná na písmeno „M“
- e) sladovnický ječmen, ~~len~~, cukrovka, kukuřice, chmel, ovoce  
- pěstuje se ve vyšších polohách než ostatní plodiny

**4. Vyhledej na mapě vodní nádrže na severní Moravě a vypiš je:**

Slezská Harta, Kružberk, Žermanice, Těrlicko, Šance

**5. Vyhledej názvy řek.**

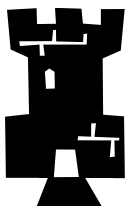
- a) HONZA DOSTAL OD RADIMA DÁREK K NAROZENINÁM.
- b) KOPA VAJEC JE ŠEDESÁT KUSŮ VAJÍČEK.
- c) POTRAVINOVÝ MOL ŠEDÝ JE HROZBOU KAŽDÉ DOMÁCNOSTI.

**6. Co mají společného města:**

Zlaté Hory, Krnov, Český Těšín?

Leží blízko hranice s Polskem

**7. Které hrady, bychom mohli na severní Moravě navštívit?**



hrad: Štramberk... dle konkrétní mapy



## ZÁKLADNÍ ŠKOLA OLMOUC

příspěvková organizace

MOZARTOVA 48, 779 00 OLMOUC

tel.: 585 427 142, 775 116 442; fax: 585 422 713

e-mail: [kundrum@centrum.cz](mailto:kundrum@centrum.cz); [www.zs-mozartova.cz](http://www.zs-mozartova.cz)

### **Seznam použité literatury a pramenů:**

CHALUPA, P. a kol., VLASTIVĚDA pro 5. ročník - Putování po České republice. Všeň : Nakladatelství ALTER, 1996. ISBN 80-85775-56-5. s. 37-48.

CHALUPA, P.; ŠTIKOVÁ, V. VLASTIVĚDA 5 - ČESKÁ REPUBLIKA JAKO SOUČÁST EVROPY, učebnice pro 5. ročník základní školy. Brno : nakladatelství NOVÁ ŠKOLA, s.r.o., 2004. ISBN 80-7289-059-X. s. 26-30.

### **Použité zdroje:**

Nečíslovaný obrazový materiál je použit z kolekce programu Microsoft Word.