

ZÁKLADNÍ ŠKOLA OLOMOUC

příspěvková organizace

MOZARTOVA 48, 779 00 OLOMOUC

tel.: 585 427 142, 775 116 442; fax: 585 422 713

e-mail: kundrum@centrum.cz; www.zs-mozartova.cz



evropský
sociální
fond v ČR



EVROPSKÁ UNIE



MINISTERSTVO ŠKOLSTVÍ,
MLÁDEŽE A TĚLOVÝCHOVY



OP Vzdělávání
pro konkurenceschopnost

INVESTICE DO ROZVOJE VZDĚLÁVÁNÍ

Projekt: ŠKOLA RADOSTI, ŠKOLA KVALITY

Registrační číslo projektu: CZ.1.07/1.4.00/21.3688

EU PENÍZE ŠKOLÁM

Operační program Vzdělávání pro konkurenceschopnost

Autor:	Mgr. Eva Hájková
Vzdělávací oblast:	Člověk a příroda
Vzdělávací obor:	Zeměpis
Vzdělávací předmět:	Zeměpis
Ročník:	7.
Tematická oblast:	Regiony světa
Téma hodiny:	Přírodní poměry Afriky 2
Označení DUM:	VY_32_INOVACE_40.02.HAJ.ZE.7
Vytvořeno:	29. 09. 2013

Pracovní list č. 1

Přírodní poměry Afriky

1. Doplň text:

Afrika má rozlohumil. km² . Afriku protíná, leží tedy na polokoulii, také ji protíná nultý poledník, ale většina Afriky leží na polokouli

Afriku omývá ze západu oceán, z východu

Na severu je Afrika oddělena od kontinentumořem, nejužší místo je průliv

Na východě je Afrika spojena s kontinentem, ale byl zde vybudovánprůplav.

2. Přiřaď správně dvojice pojmů:

Guinejský	poloostrov
Rudé	oceán
Atlantský	záliv
Středozevní	ostrov
Madagaskar	moře
Somálský	oceán
Indický	moře

3. Doplň správně věty o povrchu Afriky:

Na severu Afriky leží pohoří, na jihu

Nejvyšších výšek dosahuje v blízkosti rovníku masív

Ve východní Africe jsou 2 významné a rozsáhlé vysočiny

a V centrální Africe se nachází 2 pánve.....

a Nížiny se v Africe vyskytují okolo

4. Vodstvo Afriky – přiřaď dvojice:

Nejdelší řeka	Zambezi
Hluboké příkopové jezero	Viktoriino
Viktoriiny vodopády	Nil
Mělké, vysychá	Kongo
Nejvodnatější řeka	Tanganika
Největší jezero	Čadské

5. Rozhodni, jestli je věta správná, pokud ne, oprav tvrzení:

Afrika má podnebí tropické a mírné.

Severní a jižní část Afriky má podnebí subtropické.....

Nejvíce srážek spadne okolo obratníků.....

Nejméně srážek spadne ve východní Africe.

Podnebí Afriky je teplotně průměrné.....

6. Ke každé vegetační oblasti vyber rostliny a zvířata:

Rostliny: kaktus, orchidej, cedr, olivy, vysoká tráva, banány, vysoké stromy,

korkový dub, kakaovník, palma

Zvířata: opice, plazi, žirafa, slon, sup, velbloud, papoušek, lev, fenek, antilopa,

hyena, pštros

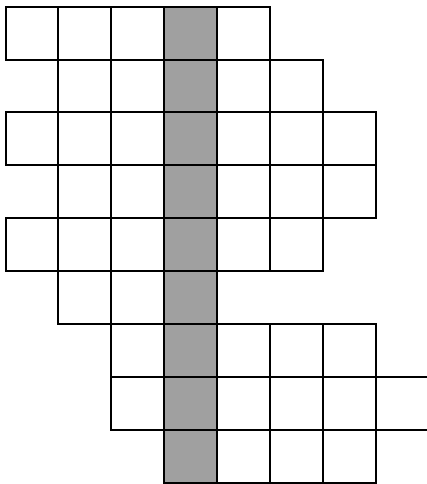
tropický deštný prales:.....

savana

pouště a polopouště.....

subtropické stálezelené lesy.....

7. Vyřeš křížovku!



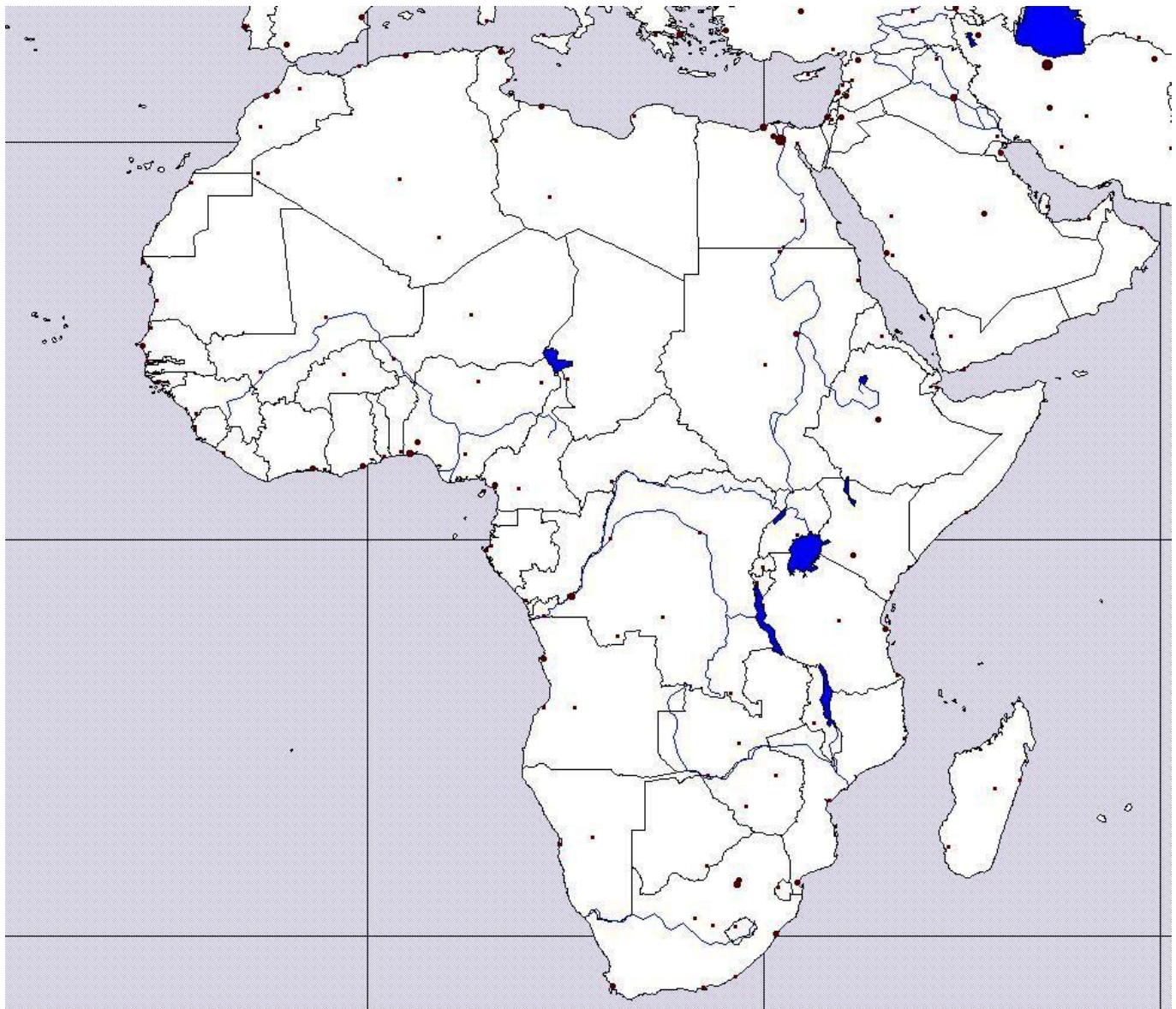
1. Nejvodnatější řeka Afriky
2. Plodina středomořské oblasti
3. Řeka v jižní Africe
4. Nejvyšší zvíře savany
5. Největší světová poušť
6. nejdelší řeka Afriky
7. severoafrické pohoří
8. vysychající africké jezero
9. moře mezi Asií a Afrikou

Tajenka:

.....

8. Do slepé mapy Afriky zakresli co nejpřesněji:

- | | | |
|------------------------|----------------------|---------------|
| 1. Guinejský záliv | 2. Rudé moře | 3. Řeka Kongo |
| 4. Kilimandžáro | 5. Čadské jezero | 6. Madagaskar |
| 7. Somálský poloostrov | 8. Viktoriino jezero | 9. Rovník |
| 9. Gibraltar | 11. Indický oceán | 12. Sahara |



Přírodní poměry Afriky

1. Doplň text:

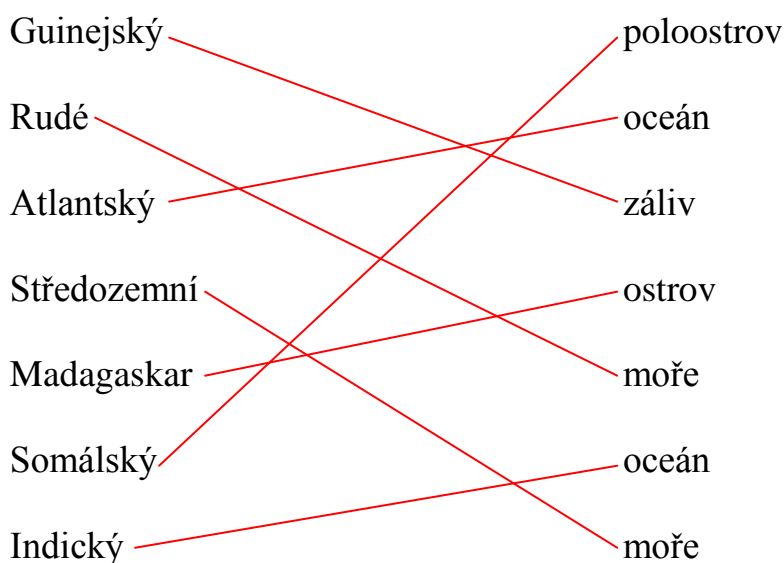
Afrika má rozlohu ...**30,3**...mil. km². Afriku protíná ...**rovník**..., leží tedy na polokouli ...**severní**...i ...**jižní**..., také ji protíná nultý poledník, ale většina Afriky leží na polokouli ...**východní**...

Afriku omývá ze západu oceán ...**Atlantský**..., z východu ...**Indický**...

Na severu je Afrika oddělena od kontinentu ...**Evropa**....., nejužší místo je průliv ...**Gibraltar**.....

Na východě je Afrika spojena s kontinentem ...**Asie**....., ale byl zde vybudován ...**Suezský**.....průplav.

2. Přiřaď správně dvojice pojmů:



3. Doplně správně věty o povrchu Afriky:

Na severu Afriky leží pohoří ...**Atlas**....., na jihu ...**Dračí hory**....

Nejvyšších výšek dosahuje v blízkosti rovníku masív ...**Kilimandžáro**...

Ve východní Africe jsou 2 významné a rozsáhlé vysočiny ...**Etiopská**..

a ...**Východoafrická**..... V centrální Africe se nachází 2 pánve...**Čadské**....

a ...**Konžská**.... Nížiny se v Africe vyskytují okolo ...**pobřeží**....

4. Vodstvo Afriky – přiřad' dvojice:

Nejdelší řeka	Zambezi
Hluboké příkopové jezero	Viktoriino
Viktoriiny vodopády	Nil
Mělké, vysychá	Kongo
Nejvodnatější řeka	Tanganika
Největší jezero	Čadské

5. Rozhodni, jestli je věta správná, pokud ne, oprav tvrzení:

Afrika má podnebí tropické a mírné. ...**tropické a subtropické**.....

Severní a jižní část Afriky má podnebí subtropické.....**ano**.....

Nejvíce srážek spadne okolo obratníků..... **Okolo rovníku**.....

Nejméně srážek spadne ve východní Africe. ...**v severní polovině**.....

Podnebí Afriky je teplotně průměrné.....**nejteplejší kontinent**.....

6. Ke každé vegetační oblasti vyber rostliny a zvířata:

Rostliny: kaktus, orchidej, cedr, olivy, vysoká tráva, banány, vysoké stromy,

korkový dub, kakaovník, palma, akácie

Zvířata: opice, plazi, žirafa, slon, sup, velbloud, papoušek, lev, fenek, antilopa,

hyena, pštros

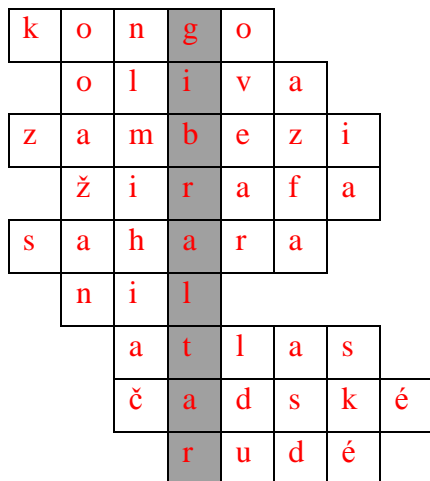
tropický deštný prales: ...orchidej, banány, kakaovník, opice, papoušek.....

savana ...vysoká tráva, akácie, žirafa, slon, sup, lev, antilopa, hyena, pštros....

pouště a polopouště ...kaktus, plazi, velbloud, fenek.....

subtropické stálezelené lesy ...cedr, korkový dub, palma,


7. Vyřeš křížovku!



1. Nejvodnatější řeka Afriky
2. Plodina středomořské oblasti
3. Řeka v jižní Africe
4. Nejvyšší zvíře savany
5. Největší světová poušť
6. nejdelší řeka Afriky
7. severoafrické pohoří
8. vysychající africké jezero
9. moře mezi Asií a Afrikou

Tajenka:

.....GIBRALTAR.....



ZÁKLADNÍ ŠKOLA OLOMOUC

příspěvková organizace

MOZARTOVA 48, 779 00 OLOMOUC

tel.: 585 427 142, 775 116 442; fax: 585 422 713

e-mail: kundrum@centrum.cz; www.zs-mozartova.cz

Seznam použité literatury a pramenů:

SVATOŇOVÁ, H.; KOLEJKA, J. Zeměpis Putování po světadílech, 1. díl Amerika, Afrika, pro 7. ročník ZŠ nebo sekundy víceletých gymnázií. Brno: Nová škola, s.r.o. 2012.

96 s. IBSN 978-80-7289-383-6.

DVOŘÁK, J.: Zeměpis 7 - učebnice pro základní školy a víceletá gymnázia. Plzeň: Fraus 2005. 128 s. IBSN 80-7238-304-3

Školní atlas světa - pro základní školy a víceletá gymnázia. Praha: Kartografie 2008. 175 s.