

ZÁKLADNÍ ŠKOLA OLOMOUC

příspěvková organizace

MOZARTOVA 48, 779 00 OLOMOUC

tel.: 585 427 142, 775 116 442; fax: 585 422 713

e-mail: kundrum@centrum.cz; www.zs-mozartova.cz



evropský
sociální
fond v ČR



EVROPSKÁ UNIE



MINISTERSTVO ŠKOLSTVÍ,
MLÁDEŽE A TĚLOVÝCHOVY



OP Vzdělávání
pro konkurenceschopnost

INVESTICE DO ROZVOJE VZDĚLÁVÁNÍ

Projekt: ŠKOLA RADOSTI, ŠKOLA KVALITY

Registrační číslo projektu: CZ.1.07/1.4.00/21.3688

EU PENÍZE ŠKOLÁM

Operační program Vzdělávání pro konkurenceschopnost

Autor:	Mgr. Eva Hájková
Vzdělávací oblast:	Člověk a příroda
Vzdělávací obor:	Zeměpis
Vzdělávací předmět:	Zeměpis
Ročník:	7.
Tematická oblast:	Regiony světa
Téma hodiny:	Státy Severní Ameriky
Označení DUM:	VY_32_INOVACE_40.15.HAJ.ZE.7
Vytvořeno:	05. 02. 2014

Pracovní list

AMERIKA – státy Severní Ameriky

1. Vyjmenuj:

2 největší státy Severní Ameriky:

Pevninské státy střední Ameriky:

.....

Karibské státy:

.....

2. Doplně text:

Největší stát SA má rozlohumil. km², je to největší stát světa , ale má jen obyvatel, protože

..... Lidé v tomto státě mluví a

.....Druhý stát SA má rozlohumil. km², je to největší stát světa, ale počet obyvatel je

Ze států střední Ameriky je největší, většina obyvatel tohoto státu žije, protože

Většina států střední Ameriky má úřední jazyk

USA – oficiální název, jsou federací států,

Názvy některých z nich:

.....

Mimo území USA leží 2 státy:(kde?)

a(kde?)

Popiš vlajku USA a vysvětli její symboliku:

.....

3. Nerostné a přírodní bohatství států Severní Ameriky:

Kanada: přírodní bohatství -

Nerostné bohatství -

USA: ropa a zemní plyn -

Černé uhlí -

Železná ruda -

Barevné a drahé kovy -

Mexiko: největší těžba, další suroviny

4. Zemědělství států SA:

Kanada: oblast

Rostlinná výroba

Živočišná výroba

USA: oblast

Rostlinná výroba

Živočišná výroba

Mexiko:

Pevninské státy střední Ameriky:

Karibské státy:

5. Poznej stát podle nápovědy:

Stříbro, vysoká nadmořská výška, Popocatepetl -

Cukrová třtina, doutníky, komunistická diktatura

Dřevo, vyspělé hospodářství, lední hokej -

Nejvyspělejší hospodářství, prerie, federace -

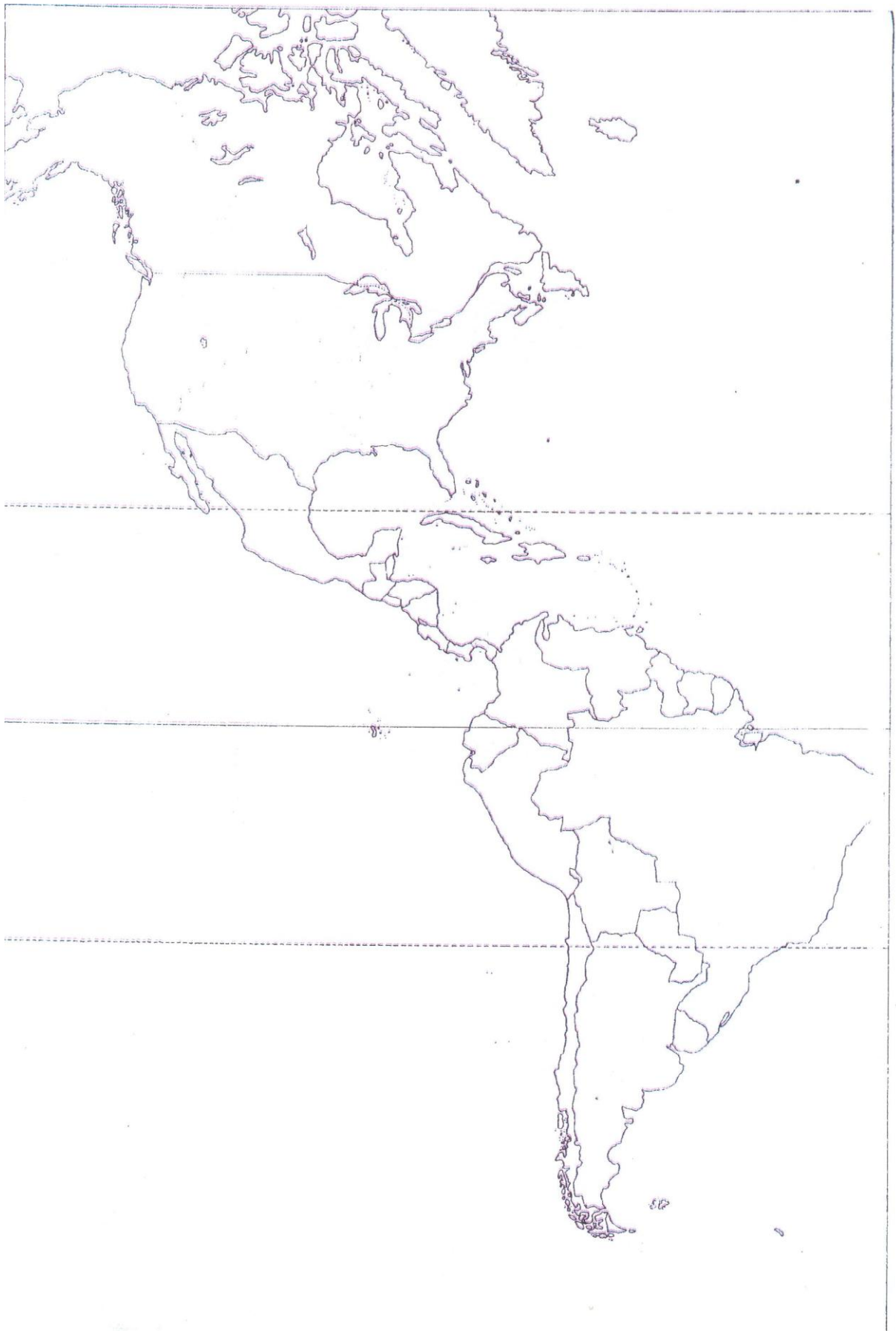
Cestovní ruch, bauxit, cukrová třtina, sprinteři -

6. Přiřaď pojmy:

Kingstone	Panama	lední hokej
Port-au-Prince	Kanada	komunistický režim
Managua	Kostarika	atleti
Santo Dominigo	Haiti	káva
Panama	Kuba	banány
San José	Dominikánská rep.	průplav
Ottawa	Jamajka	zemětřesení
Havana	Nikaragua	cestovní ruch

7. Do slepé mapy zakresli dané státy a města:

- | | | |
|---------------|----------------|--------------|
| 1. Washington | 2. Panama | 3. Bahamy |
| 4. Toronto | 5. Los Angeles | 6. Portoriko |
| 7. Miami | 8. Mexiko City | 9. Havana |
| 10. New York | 11. Ottawa | 12. Jamajka |



Pracovní list **ŘEŠENÍ**

AMERIKA – státy Severní Ameriky

1. Vyjmenuj:

2 největší státy Severní Ameriky:**Kanada, USA**.....

Pevninské státy střední Ameriky: ...**Mexiko, Nikaragua, Honduras, Kostarika
Belize, Panama**.....

Karibské státy: ...**Kuba, Haiti, Dominikánská republika, Portoriko, Jamajka,
Bahamy, Trinidad a Tobago, Barbados**,.....

2. Doplň text:

Největší stát SA ...**Kanada**..... má rozlohu . **9,9** mil. km², je to.. **2**.. největší stát světa , ale má jen **.33 mil.** obyvatel, protože ...**většina státu má nepříznivé klimatické podmínky**. Lidé v tomto státě mluví ...**anglicky**... a

...**francouzsky**.....Druhý stát SA ...**USA**... má rozlohu...**9,3**...mil. km², je to ..**4**.... největší stát světa, ale počet obyvatel je ...**300 milionů**.

Ze států střední Ameriky je největší**Mexiko**..., většina obyvatel tohoto státu žije ...**vyšších nadmořských výškách**....., protože ...**je tam mírnější klima**.

Většina států střední Ameriky má úřední jazyk**španělštinu**.....

USA – oficiální název ...**Spojené státy americké**....., jsou federací ..**50**.. států,

Názvy některých z nich: ...**Florida, Kalifornie, Nevada, Texas, Arizona**....

...**Severní a Jižní Karolína, Mississippi, Utah, Kansas, Alabama, New York**,..

Mimo území USA leží 2 státy: ...**Aljaška**...(kde?) ...**severozápad Ameriky**...

a ...**Havajské ostrovy**...(kde?) ...**v Tichém oceánu**.....

Popiš vlajku USA a vysvětli její symboliku: ...**13 pruhů =zakládající státy USA,**

...**50 hvězdiček = 50 členských států USA**.....

3. Nerostné a přírodní bohatství států Severní Ameriky:

Kanada: přírodní bohatství - ...**lesy, dřevo, voda, čistá příroda**.....

Nerostné bohatství - ...**ropa, zemní plyn, ruda, barevné a drahé kovy**..

USA: ropa a zemní plyn – **okolo Mexického zálivu, v Kalifornii, na Aljašce**

Černé uhlí –**v Appalačských horách**.....

Železná ruda -**v oblast Velkých jezer na SV**.....

Barevné a drahé kovy -**v Kordillerách a na Aljašce**.....

Mexiko: největší těžba ...**stříbro**..., další suroviny ...**ropa a zemní plyn**.

4. Zemědělství států SA:

Kanada: oblast ...**jih Kanady při hranici s USA, oblast prérií**.....

Rostlinná výroba ...**pšenice, kukuřice**.....

Živočišná výroba**chov skotu, rybolov, lov kožešinné zvěře**.....

USA: oblast**střed – prerie, jih země u Mexického zálivu**.....

Rostlinná výroba ...**kukuřice, pšenice, ovoce, bavlník**.....

Živočišná výroba**chov skotu, prasat, rybolov**.....

Mexiko: ...**kukuřice, sója, ovoce, zelenina, chov skotu, rybolov**.....

Pevninské státy střední Ameriky: ...**banány, kávovník, cukrová třtina**.....

Karibské státy:**cukrová třtina, tabák, kávovník, ovoce**.....

5. Poznej stát podle nápovědy:

Stříbro, vysoká nadmořská výška, Popocatepetl - ...**Mexiko**.....

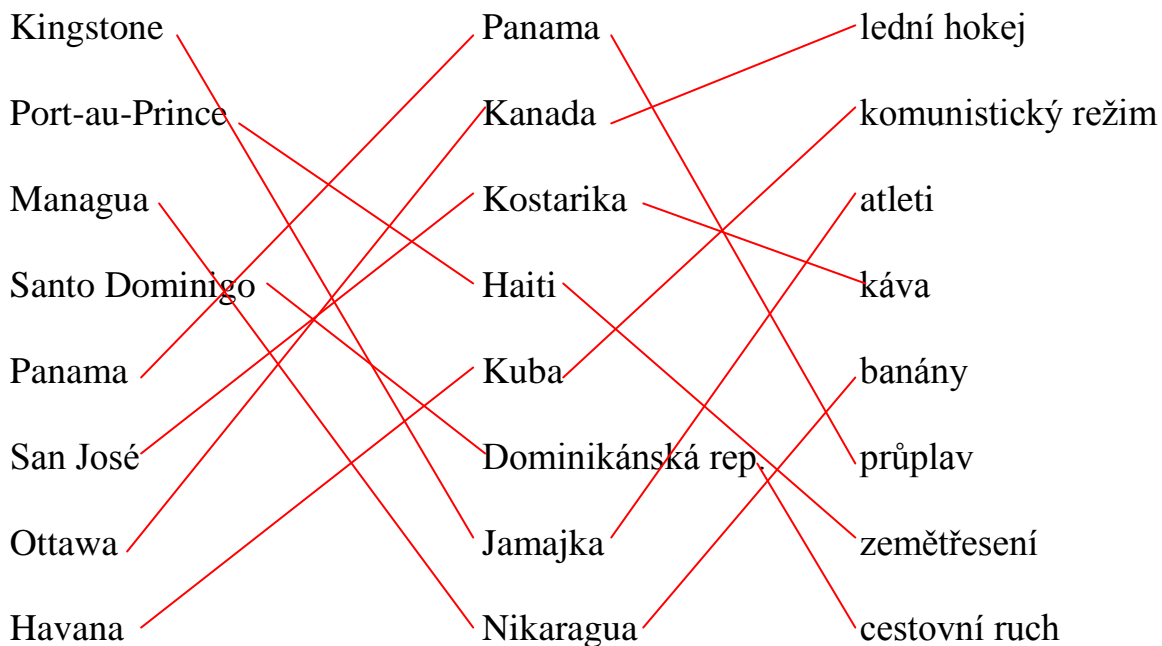
Cukrová třtina, doutníky, komunistická diktatura**Kuba**.....

Dřevo, vyspělé hospodářství, lední hokej -**Kanada**.....

Nejvyspělejší hospodářství, prémie, federace -**USA**.....

Cestovní ruch, bauxit, cukrová třtina, sprinteři -**Jamajka**.....

6. Přiřaď pojmy:



7. Do slepé mapy zakresli dané státy a města:

2. Washington

2. Panama

3. Bahamy

5. Toronto

5. Los Angeles

6. Portoriko

7. Miami


8. Mexiko City

9. Havana

10. New York

11. Ottawa

12. Jamajka



ZÁKLADNÍ ŠKOLA OLMOUC

příspěvková organizace

MOZARTOVA 48, 779 00 OLMOUC

tel.: 585 427 142, 775 116 442; fax: 585 422 713

e-mail: kundrum@centrum.cz; www.zs-mozartova.cz

Seznam použité literatury a pramenů:

SVATOŇOVÁ, H.; KOLEJKA, J. *Zeměpis Putování po světadílech, 1. díl Amerika, Afrika, pro 7. ročník ZŠ nebo sekundy víceletých gymnázií.* Brno: Nová škola, s.r.o. 2012.

96 s. ISBN 978-80-7289-383-6.

DVOŘÁK, J.: *Zeměpis 7 - učebnice pro základní školy a víceletá gymnázia.* Plzeň: Fraus 2005. 128 s. ISBN 80-7238-304-3

Školní atlas světa - pro základní školy a víceletá gymnázia. Praha: Kartografie 2008. 175 s.