



## ZÁKLADNÍ ŠKOLA OLOMOUC

příspěvková organizace

MOZARTOVA 48, 779 00 OLOMOUC

tel.: 585 427 142, 775 116 442; fax: 585 422 713

e-mail: [kundrum@centrum.cz](mailto:kundrum@centrum.cz); [www.zs-mozartova.cz](http://www.zs-mozartova.cz)



INVESTICE DO ROZVOJE VZDĚLÁVÁNÍ

Projekt: ŠKOLA RADOSTI, ŠKOLA KVALITY

Registrační číslo projektu: CZ.1.07/1.4.00/21.3688

## EU PENÍZE ŠKOLÁM

Operační program Vzdělávání pro konkurenceschopnost

<b>Autor:</b>	Mgr. Pavla Repová
<b>Vzdělávací oblast:</b>	Jazyk a jazyková komunikace
<b>Vzdělávací obor:</b>	Anglický jazyk
<b>Vyučovací předmět:</b>	Anglický jazyk
<b>Ročník:</b>	5.
<b>Tematická oblast:</b>	Konverzační témata
<b>Téma hodiny:</b>	Time 2
<b>Označení DUM:</b>	VY_32_INOVACE_42.08.REP.AJ.5
<b>Vytvořeno:</b>	27. 02. 2014

Spoj názvy hodin se správnými obrázky.



ten to ten



four o'clock

twelve thirty-nine



twenty-five to one

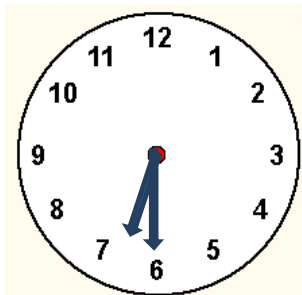


twenty-four past two



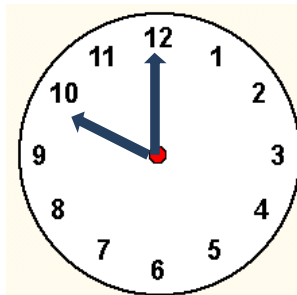
Rozhodni, zda se obrázky shodují s názvy hodin. T (TRUE) značí správnou a F (FALSE) špatnou odpověď. Správnou odpověď zakroužkuj.

T F



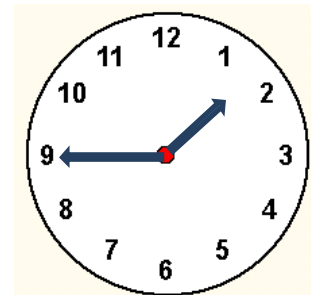
1. It's half past seven.

T F



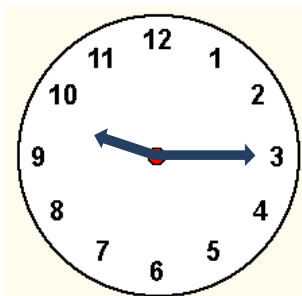
2. It's twelve to ten.

T F



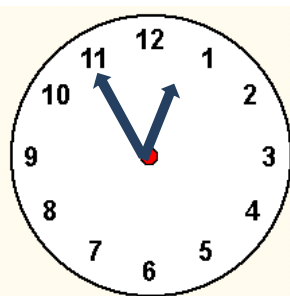
3. It's quarter to two.

T F



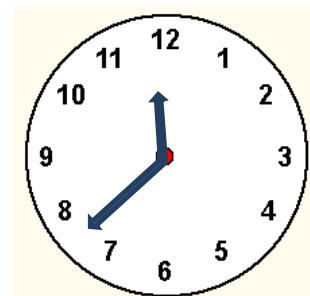
4. It's quarter past nine.

T F



5. It's five to one.

T F



6. It's eight o'clock.

Podle nápovědy vyplň tajenku a její výsledek přelož do češtiny.

1.								
2.								
3.								
4.								
5.								
6.								
7.								

1. **11:45** – It's quarter to \_\_\_\_\_.
2. **2:30** – It's half \_\_\_\_\_ two.
3. **3:20** - It's twenty past \_\_\_\_\_.
4. **6:00** - It's six o' \_\_\_\_\_.
5. **7:50** – It's ten to \_\_\_\_\_.
6. **9:15** – It's \_\_\_\_\_ past nine.
7. **6:30** – It's half past \_\_\_\_\_.

**Tajenka:** I've got a new pair of \_\_\_\_\_.

**Překlad:** \_\_\_\_\_.

**Vyřeš přesmyčku a doplň ke slovům předložku on či at.**

1. S D T E Y A U (den v týdnu) - \_\_\_\_\_
2. N O E O' L O C C K (čas) - \_\_\_\_\_
3. Y M D Y A B R I T H (významný den) - \_\_\_\_\_
4. E T N S A P T H R E T E (čas) - \_\_\_\_\_
5. D Y A F I R M R I G N O N (část dne) - \_\_\_\_\_
6. A R U Q R T E O T V I E F (čas) - \_\_\_\_\_

Spoj názvy hodin se správnými obrázky.



ten to ten

four o'clock

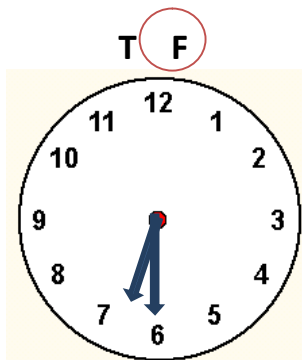
twelve thirty-nine

twenty-five to one

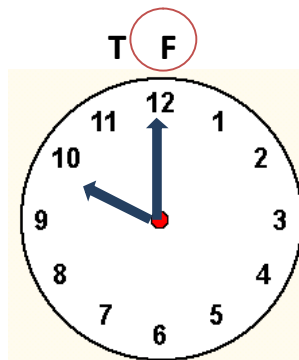
twenty-four past two



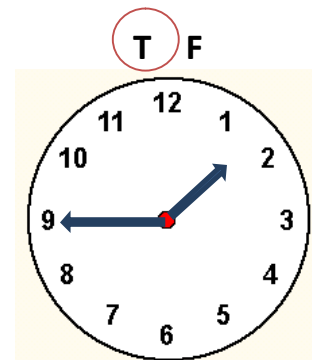
Rozhodni, zda se obrázky shodují s názvy hodin. T (TRUE) značí správnou a F (FALSE) špatnou odpověď. Správnou odpověď zakroužkuj.



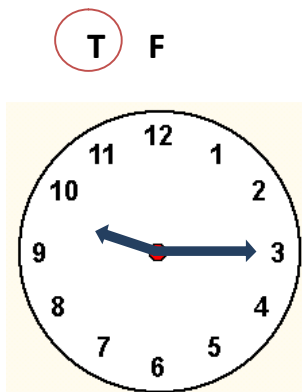
2. It's half past seven.



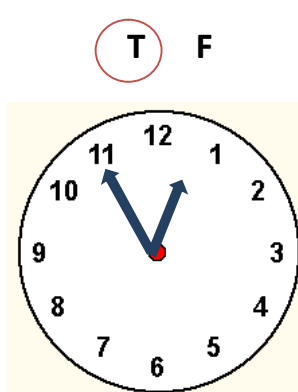
2. It's twelve to ten.




3. It's quarter to two.



4. It's quarter past nine.



5. It's five to one.



6. It's eight o'clock.

Podle nápovědy vyplň tajenku a její výsledek přelož do češtiny.

1.				T	W	E	L	V	E
2.				P	A	S	T		
3.					T	H	R	E	E
4.			C	L	O	C	K		
5.			E	I	G	H	T		
6.	Q	U	A	R	T	E	R		
7.						S	I	X	

1. **11:45** – It's quarter to \_\_\_\_\_.
2. **2:30** – It's half \_\_\_\_\_ two.
3. **3:20** - It's twenty past \_\_\_\_\_.
4. **6:00** - It's six o' \_\_\_\_\_.
5. **7:50** – It's ten to \_\_\_\_\_.
6. **9:15** – It's \_\_\_\_\_ past nine.
7. **6:30** – It's half past \_\_\_\_\_.

Tajenka: I've got a new pair of WATCHES.

Překlad: **Mám dvoje nové hodinky.**

Vyřeš přesmyčku a doplň ke slovům předložku on či at.

1. SDTEYAU (den v týdnu) - **on Tuesday**
2. NOE O'LOCCCK (čas) – **one o'clock**
3. YM DYABRITH (významný den) – **my birthday**
4. ETN SAPT HRETE (čas) – **ten past three**
5. DYAFIR MRIGNON (část dne) – **Friday morning**
6. ARUQRTE OT VIEF (čas) - **quarter to five**



## ZÁKLADNÍ ŠKOLA OLMOUC

příspěvková organizace

MOZARTOVA 48, 779 00 OLMOUC

tel.: 585 427 142, 775 116 442; fax: 585 422 713

e-mail: [kundrum@centrum.cz](mailto:kundrum@centrum.cz); [www.zs-mozartova.cz](http://www.zs-mozartova.cz)

### **Seznam použité literatury a pramenů:**

HUTCHINSON, T. Project učebnice angličtiny 1. Oxford : Oxford University Press, 2008. ISBN 978-0-19-476414-8. s. 32-33.

### **Použité zdroje:**

Obrazový materiál je použit z galerie obrázků a klipartů Microsoft Office.